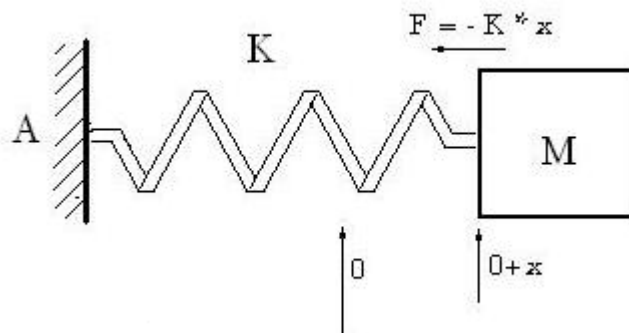
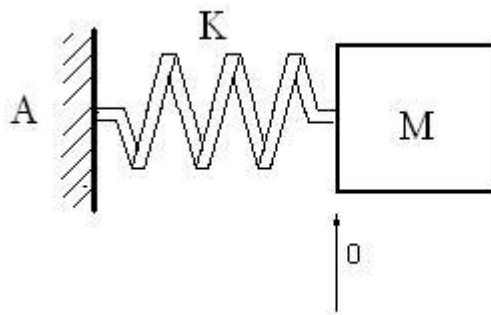


Esercizi Moto oscillatorio

1. (**Esame Luglio 2014**) Un blocco di massa $m=680\text{ g}$, fissato a una molla con $k=65\text{ N/m}$, è trascinato a una distanza $x=11\text{ cm}$ dalla sua posizione di equilibrio $x=0$ su una superficie priva di attrito e lasciato libero, da fermo, all'istante $t=0$.
- Quali sono la pulsazione, la frequenza ed il periodo dell'oscillazione risultante?
 - Qual è l'ampiezza risultante?
 - Qual è la massima velocità del blocco oscillante?
 - Qual è la massima accelerazione del blocco?
 - Qual è l'energia totale del sistema?



Soluzione:

Dalla seconda legge di Newton abbiamo:

$$F = m \cdot a(t) = -K \cdot X(t)$$

Quindi:

$$d^2X(t)/dt^2 = -(K/m).X(t) = -\omega^2.X(t)$$

$$\omega = \sqrt{(K/m)}$$

La soluzione di questa equazione differenziale è:

$$X(t) = A.\cos(\omega t + \phi)$$

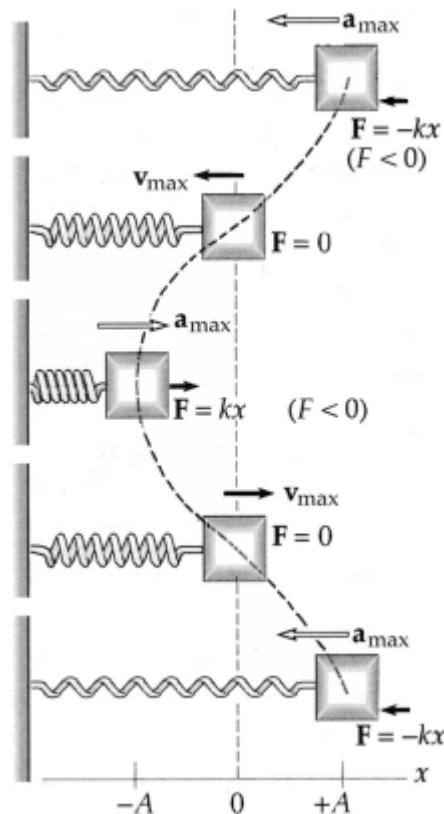
Applicando la **seconda legge di Newton** al moto nella direzione x si ha $F = ma_x = -kx$. Poiché $a_x = d^2x/dt^2$, ciò è equivalente all'Equazione 12.2.

$$\frac{d^2x}{dt^2} = -\omega^2x \quad (12.2)$$

La soluzione generale dell'Equazione 12.2 rappresenta la dipendenza temporale della posizione x , purché sia $\omega^2 = k/m$. In questa espressione A rappresenta l'**ampiezza** del moto, $\omega t + \phi$ è la **fase**, ω è la **pulsazione** (rad/s) e ϕ è la **costante di fase**.

$$x(t) = A \cos(\omega t + \phi)$$

$$\text{con } \omega^2 = \frac{k}{m} \quad (12.3)$$



a) La pulsazione:

$$\omega = \sqrt{(65/0,680)} = 9,78 \text{ rad/s}$$

La frequenza:

$$f = \omega / 2\pi = 9,78 / 2.(3,1416) = 1,56 \text{ Hz}$$

Il periodo:

$$T = 1/f = 1 / 1,56 = 0,64 \text{ sec}$$

b) L'ampiezza risultante:

$$X(0) = A.\cos(0.t + \phi) = 0,11$$

$$A.\cos(\phi) = 0,11$$

$$V(0) = -A.\omega.\sin(\omega t + \phi) = 0$$

$$A.\omega.\sin(\phi) = 0$$

$$\phi = 0$$

$$A = 0,11 \text{ m}$$

c) Velocità massima:

$$\text{Da } X(t) = A.\cos(\omega t)$$

$$V(t) = dX(t)/dt = -A.\omega.\sin(\omega t)$$

Sarà massima quando $\sin(\omega t) = -1$

$$V_{\max} = A.\omega = (0,11).(9,78) = 1,0758 \text{ m/s}$$

d) Accelerazione massima:

$$\text{Da } V(t) = -A.\omega.\sin(\omega t)$$

$$a(t) = dV(t)/dt = -A.\omega^2.\cos(\omega t)$$

Sarà massima quando $\cos(\omega t) = -1$

$$V_{\max} = A.\omega^2 = (0,11).(9,78)^2 = 10,52 \text{ m/s}^2$$

e) L'energia totale del sistema:

$$E = \frac{1}{2}.k.A^2$$

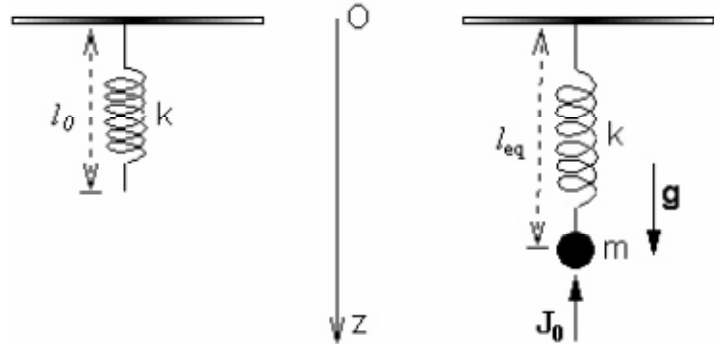
$$E = \frac{1}{2}.65.(0,11)^2 = 0,3933 \text{ J}$$

2. (**Esame Luglio 2007**) Un corpo puntiforme di massa $m=5 \text{ kg}$ pende verticalmente essendo attaccato all'estremità inferiore di una molla di costante elastica $k=100 \text{ N/m}$ e lunghezza a riposo $l_0=0.6 \text{ m}$, disposta verticalmente e avente l'estremità superiore vincolata ad un punto fisso O del soffitto.

Inizialmente il corpo si trova in condizioni di equilibrio statico. All'istante $t = 0$ il corpo subisce un impulso di intensità $I_0 = 12.5 \text{ kg m/s}$ agente in direzione verticale e rivolto verso l'alto.

Calcolare in un sistema di riferimento OZ orientato verso il basso:

- la posizione di equilibrio iniziale del corpo;
- l'equazione del moto del corpo per $t > 0$,
- la legge oraria del moto oscillatorio del corpo tenendo conto delle condizioni al tempo $t = 0$.



Soluzione:

- In equilibrio, prima dell'impulso:

$$m \cdot g = -K \cdot \Delta Z$$

$$\Delta Z = -m \cdot g / K$$

$$\Delta Z = -5 \cdot (-9,81) / 100 = 0,49$$

$$Z_{eq} = l_0 + \Delta Z = 0,6 + 0,49$$

$$Z_{eq} = 1,09 \text{ m}$$

- L'equazione del moto:

$$\Sigma F = m \cdot a(t) = m \cdot d^2 Z(t) / dt^2$$

$$m \cdot g - k \cdot Z(t) = m \cdot d^2 Z(t) / dt^2$$

$$g - (k/m) \cdot Z(t) = d^2 Z(t) / dt^2$$

$$d^2 Z(t) / dt^2 + (k/m) \cdot Z(t) - g = 0$$

$$\omega = \sqrt{(K/m)}$$

Quindi:

$$d^2 Z(t) / dt^2 + \omega^2 \cdot Z(t) = g$$

Questa è una equazione differenziale non omogenea con soluzione:

$$Z(t) = A \cdot \cos(\omega t + \phi) + g / \omega^2$$

- La legge oraria del moto, con le condizioni iniziali:

$$Z(0) = 1,09$$

$$V(0) = ?$$

Calcoliamo la velocità iniziale a partire dall'impulso $I_0 = 12.5 \text{ kg m/s}$

$$I_0 = \Delta P = m \cdot V_f - m \cdot V_i = 12,5$$

$$V_i = 0$$

$$V_f = 12,5 / 5 = 2,5 \text{ m/s}$$

$$V(0) = V_f = 2,5 \text{ m/s}$$

$$\text{Da } Z(t) = A \cdot \cos(\omega t + \phi) + g/\omega^2$$

$$V(t) = dZ(t)/dt = -A \cdot \omega \cdot \sin(\omega t + \phi)$$

Quindi:

$$Z(0) = A \cdot \cos(\phi) + g/\omega^2 = 1,09$$

$$V(0) = -A \cdot \omega \cdot \sin(\phi) = 2,5$$

$$A \cdot \cos(\phi) = 1,09 - g/\omega^2 = 1,09 - 9,8/20 = 0,6$$

$$A \cdot \sin(\phi) = -2,5/\omega = -2,5/4,47 = -0,56$$

$$\tan(\phi) = -0,9333$$

$$\phi = -0,75 \text{ rad}$$

$$A = 0,82 \text{ m}$$

La legge oraria sarà:

$$Z(t) = 0,82 \cdot \cos(4,47 \cdot t - 0,75) + 0,49$$