

TUTORAGGIO ANALISI II

dott. Saoncella

2012/2013

9

LEZIONE DEL 30/1/2013

ESERCIZIO 1

Data la funzione $f(x,y) = x^2 - y^2$ e la curva vincolo di equazione $g(x,y) = x + 2y^2 - 2 = 0$

- representare sul piano cartesiano la curva vincolo e le curve di livello di f di equazioni $f(x,y) = 1$ e $f(x,y) = -1$.
- Scrivere la Lagrangiana e determinare gli eventuali punti critici attraverso le condizioni di Lagrange.
- classificare gli eventuali punti critici trovati attraverso la matrice Hessiana correlata.
- illustrare il significato geometrico delle condizioni di Lagrange in generale e nel caso specifico di uno dei punti critici trovati.

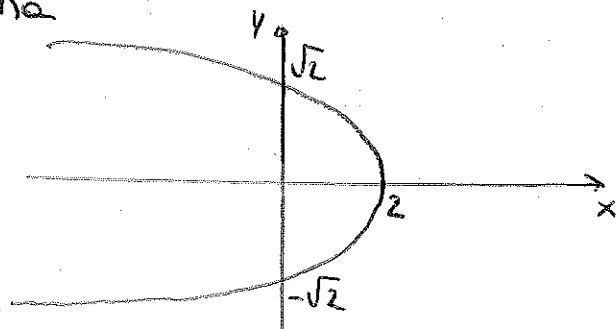
SVOLGIMENTO

Andando ad esprimere il vincolo $x + 2y^2 - 2 = 0$ rispetto alla variabile x si ottiene

$$x = -2y^2 + 2$$

che rappresenta l'equazione di una parabola con vertice in $V = (2, 0)$ e rivolta verso sinistra. Ponendo $0 = -2y^2 + 2$ si trova che le intersezioni con l'asse y si hanno per $y = -\sqrt{2}$ e $y = \sqrt{2}$.

Graficamente si ha



Quindi:

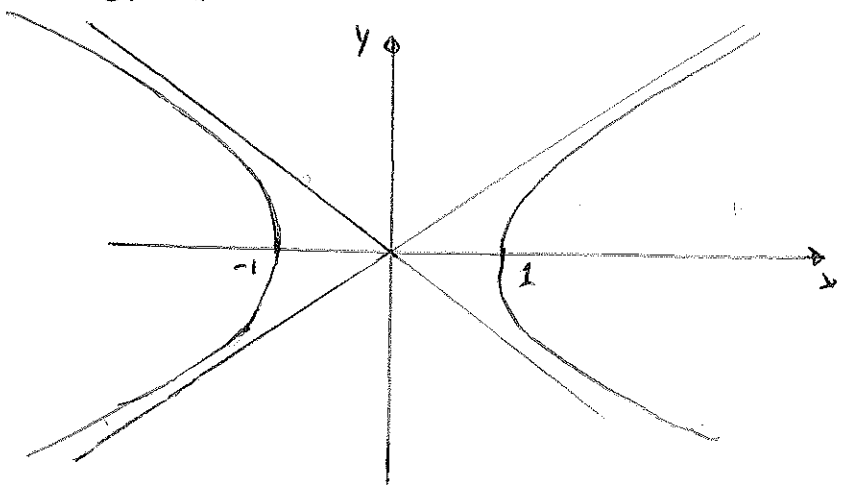
$$\text{Vincolo} = \{(x,y) \in \mathbb{R}^2 \mid x + 2y^2 - 2 = 0\}$$

Determiniamo ora la curva di livello corrispondente al valore $k=1$
Quindi ponendo

$$f(x,y)=1 \Rightarrow x^2-y^2=1$$

L'equazione trovata rappresenta l'equazione di un'iperbole che interseca l'asse x in $x=1$ e $x=-1$.

Graficamente si ha



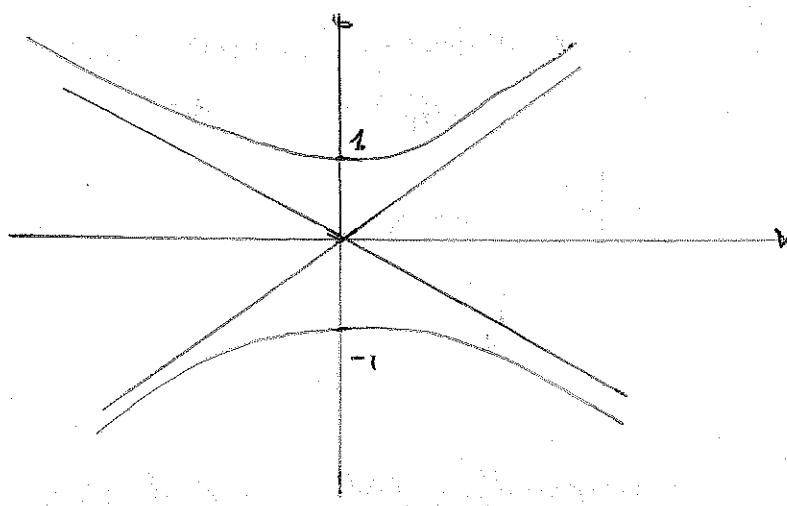
Studiamo ora la curva di livello corrispondente al valore $k=-1$

Quindi ponendo

$$f(x,y)=-1 \Rightarrow x^2-y^2=-1$$

L'equazione trovata rappresenta l'equazione di un'iperbole che interseca l'asse y in $y=1$ e $y=-1$.

Graficamente si ha



b) L'espressione della funzione di Lagrange è

$$L(x, y, \lambda) = x^2 - y^2 + \lambda(x + 2y^2 - 2)$$

quindi calcolando ∇L e ponendolo uguale a 0 si ottiene

$$\begin{cases} \frac{\partial L}{\partial x} = 2x + \lambda = 0 \\ \frac{\partial L}{\partial y} = -2y + 4\lambda y = 0 \\ \frac{\partial L}{\partial \lambda} = x + 2y^2 - 2 = 0 \end{cases} \Rightarrow \begin{cases} \lambda = -2x \\ y(2\lambda - 1) = 0 \\ x + 2y^2 - 2 = 0 \end{cases} \begin{cases} \lambda = -2x \\ y(-4x - 1) = 0 \\ x + 2y^2 - 2 = 0 \end{cases}$$

Abbiamo i seguenti casi:

- se $y=0$, allora $x=2$
- se $y \neq 0$, allora $x = -\frac{1}{4}$ e $y = \pm \frac{3}{2\sqrt{2}}$

Pertanto i punti stazionari sono $(2, 0), (-1/4, 3/2\sqrt{2}), (-1/4, -3/2\sqrt{2})$

c) se $d = f + \lambda g$ allora l'Hessiana relativa è

$$H(x, y, \lambda) = \begin{bmatrix} 0 & \partial_x g(x, y) & \partial_y g(x, y) \\ \partial_x g(x, y) & \partial_{xx}^2 L(x, y) & \partial_{xy}^2 L(x, y) \\ \partial_y g(x, y) & \partial_{xy}^2 L(x, y) & \partial_{yy}^2 L(x, y) \end{bmatrix} = \begin{bmatrix} 0 & 1 & 4y \\ 1 & 2 & 0 \\ 4y & 0 & -2 + 4\lambda \end{bmatrix}$$

Per capire lo nature dei punti critici bisogna calcolare il determinante di $H(x_0, y_0, \lambda_0)$. Quindi

$$\det(H(2, 0, -4)) = \begin{vmatrix} 0 & 1 & 0 \\ 1 & 2 & 0 \\ 0 & 0 & -10 \end{vmatrix} = -10 \cdot (-1) = 10 > 0 \Rightarrow (2, 0) \text{ è punto di massimo locale}$$

$$\det(H(-1/4, 3/2\sqrt{2}, 1/2)) = \begin{vmatrix} 0 & 1 & 6/\sqrt{2} \\ 1 & 2 & 0 \\ 6/\sqrt{2} & 0 & 0 \end{vmatrix} = \frac{6}{\sqrt{2}} \cdot (-6\sqrt{2}) = -36 < 0 \Rightarrow \left(-\frac{1}{4}, \frac{3}{2\sqrt{2}}\right) \text{ punto di minimo locale}$$

$$\det(H(-1/4, -3/2\sqrt{2}, 1/2)) = \begin{vmatrix} 0 & 1 & -6/\sqrt{2} \\ 1 & 2 & 0 \\ -6/\sqrt{2} & 0 & 0 \end{vmatrix} = -\frac{6}{\sqrt{2}} \cdot (6\sqrt{2}) = -36 < 0 \Rightarrow \left(-\frac{1}{4}, -\frac{3}{2\sqrt{2}}\right) \text{ punto di minimo locale}$$

d) Il significato geometrico è: le curve di livello sono tangenti al vincolo. Consideriamo il punto $(2, 0)$. Si ha

$$\nabla F(x, y) = (2x, -2y) \Rightarrow \nabla F(2, 0) = (4, 0)$$

$$\nabla g(x, y) = (1, 4y) \Rightarrow \nabla g(2, 0) = (1, 0)$$

da cui si ricorre che $\nabla F(2, 0)$ e $\nabla g(2, 0)$ sono vettori paralleli.

ESERCIZIO 2

Dato $f(x,y) = \sqrt{2xy-1}$

- determinare il dominio della funzione f e rappresentarlo sul piano cartesiano
- calcolare le derivate parziali prime e seconde della funzione f
- scrivere il polinomio di Taylor di primo grado e l'equazione del piano tangente al grafico di f relativamente al punto $(x_0, y_0) = (1, 1)$.
- scrivere il polinomio di Taylor di secondo grado e l'equazione del paraboloido tangente al grafico di f relativamente al punto $(x_0, y_0) = (1, 1)$.

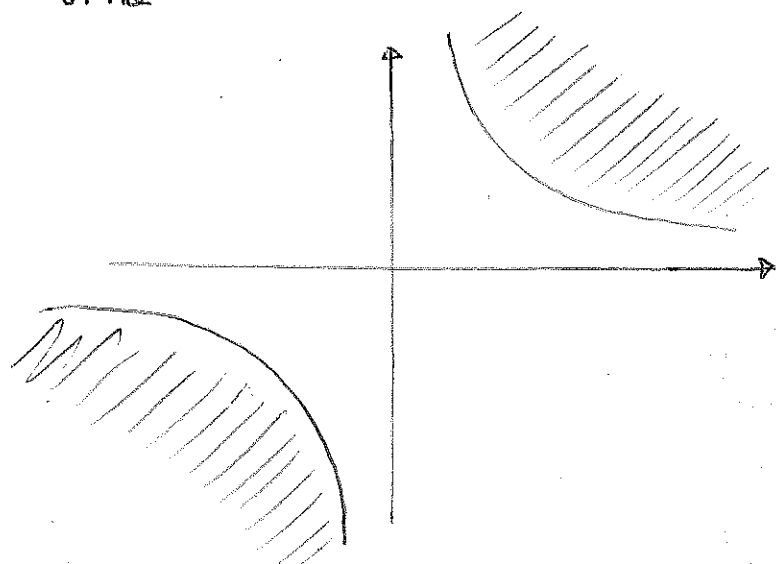
SOLGIMENTO

- a) Affinché la funzione f sia definita dobbiamo imporre che
- $$2xy - 1 \geq 0$$

Da cui si ricava che $xy \geq \frac{1}{2}$. L'equazione $xy = \frac{1}{2}$ rappresenta

l'equazione di un'iperbole situata nel primo e terzo quadrante, i cui asintoti sono dati dagli assi cartesiani.

Graficamente si ha



quindi

$$\text{Dominio } f = \left\{ (x,y) \in \mathbb{R} \mid xy \geq \frac{1}{2} \right\}$$

b) Il gradiente di f è dato da

$$\nabla f = \begin{cases} \frac{\partial f}{\partial x} = \frac{y}{\sqrt{2xy-1}} \\ \frac{\partial f}{\partial y} = \frac{x}{\sqrt{2xy-1}} \end{cases}$$

Le derivate parziali seconde sono

$$\frac{\partial^2 f}{\partial x^2} = -y \frac{2y}{2\sqrt{2xy-1}} \cdot \frac{1}{2xy-1} = \frac{-y^2}{(2xy-1)^{3/2}}$$

$$\frac{\partial^2 f}{\partial y^2} = -x \frac{2x}{2\sqrt{2xy-1}} \cdot \frac{1}{2xy-1} = \frac{-x^2}{(2xy-1)^{3/2}}$$

$$\frac{\partial^2 f}{\partial x \partial y} = \frac{\partial^2 f}{\partial y \partial x} = \frac{\sqrt{2xy-1} - y \cdot \frac{2x}{2\sqrt{2xy-1}}}{2xy-1} = \frac{2xy-1-2xy}{(2xy-1)^{3/2}} = \frac{xy-1}{(2xy-1)^{3/2}}$$

c) L'espressione del polinomio di Taylor di primo grado è data da

$$P(x,y) = f(x_0, y_0) + \nabla f(x_0, y_0) \cdot (x-x_0, y-y_0)$$

$$= 1 + (1, 1) \cdot (x-1, y-1) = 1 + x - 1 + y - 1 = x + y - 1$$

L'equazione del piano tangente al grafico di f nel punto $(x_0, y_0) = (1, 1)$ è dato da

$$\nabla h(x_0, y_0, z_0) \cdot (x-x_0, y-y_0, z-z_0) = 0$$

$$\text{dove } h(x, y, z) = \sqrt{2xy-1} - z$$

Si ha che $z_0 = f(x_0, y_0) = 1$, quindi abbiamo

$$\nabla h(1, 1, 1) \cdot (x-1, y-1, z-1) = 0$$

da cui si ricava

$$(1, 1, -1) \cdot (x-1, y-1, z-1) = 0$$

quindi

$$x-1 + y-1 - z+1 = 0 \Rightarrow x+y-z-1 = 0$$

d) L'espressione del polinomio di Taylor di secondo grado è dato da (6)

$$\begin{aligned} P(x,y) &= f(x_0, y_0) + \nabla f(x_0, y_0) \cdot (x-x_0, y-y_0) + \frac{1}{2} [Hf(x_0, y_0) \cdot \begin{pmatrix} x-x_0 \\ y-y_0 \end{pmatrix}] \cdot \begin{pmatrix} x-x_0 \\ y-y_0 \end{pmatrix} \\ &= 1+x+y + \frac{1}{2} \cdot \begin{bmatrix} -1 & -1 \\ -1 & -1 \end{bmatrix} \cdot \begin{bmatrix} x-1 \\ y-1 \end{bmatrix} \cdot \begin{bmatrix} x-1 \\ y-1 \end{bmatrix} \\ &= 1+x+y + \frac{1}{2} \left(\overbrace{-x-y+2}^{-x-y+2}, \overbrace{-x-y+2}^{-x-y+2} \right) \cdot (x-1, y-1) \\ &= 1+x+y + \frac{1}{2} (-x^2 - xy + 2x + x + y - 2 - xy - y^2 + 2y + x + y - 2) \\ &= 1+x+y + \frac{1}{2} (-x^2 - y^2 - 2xy + 4x + 4y - 2) \\ &= -\frac{x^2}{2} - \frac{y^2}{2} - xy + 3x + 3y - 1 \end{aligned}$$

L'equazione del paraboloido tangente nel punto (1,1) si trova ponendo
 $z = P(x,y)$

quindi si ha

$$z - P(x,y) = 0 \Rightarrow z + \frac{x^2}{2} + \frac{y^2}{2} + xy - 3x - 3y + 1$$

ESERCIZIO 3

Enunciare il teorema di integrabilità nel piano e la formula di riduzione degli integrali doppi; definire un dominio piano normale.

Calcolare, se esiste, $\iint_T xy \, dx \, dy$ con T triangolo di vertici $(0,0), (1,0), (1,1)$.

SVOLGIMENTO

- (1) Una regione $D \subseteq \mathbb{R}^2$ è detta dominio normale rispetto all'asse x se i punti $(x,y) \in D$ soddisfano le seguenti relazioni: $a \leq x \leq b, f(x) \leq y \leq g(x)$.
- (2) Analogamente, la regione $D \subseteq \mathbb{R}^2$ è detta dominio normale rispetto all'asse y se i punti $(x,y) \in D$ soddisfano le seguenti relazioni: $c \leq y \leq d, h(y) \leq x \leq k(y)$.
- (3) Se valgono le relazioni di normale rispetto all'asse x e normale rispetto all'asse y allora la regione è detta dominio normale.

TEOREMA INTEGRABILITÀ: Ogni funzione f continua su un dominio piano normale D è ivi integrabile.

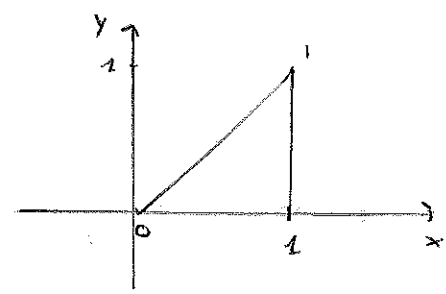
Le formule di riduzione sono:

se D è normale rispetto all'asse $x \Rightarrow \iint_D f(x,y) \, dx \, dy = \int_a^b \left(\int_{f(x)}^{g(x)} f(x,y) \, dy \right) dx$

se D è normale rispetto all'asse $y \Rightarrow \iint_D f(x,y) \, dx \, dy = \int_c^d \left(\int_{h(y)}^{k(y)} f(x,y) \, dx \right) dy$

se D è normale $\Rightarrow \iint_D f(x,y) \, dy \, dx = \iint_D f(x,y) \, dx \, dy$

Disegniamo il dominio



Siccome la funzione integranda è continua e il dominio T è compatto allora l'integrale esiste. Andiamo ad integrare per linee parallele all'asse y . Abbiamo che x varia tra $x=0$ e $x=1$, mentre y varia tra $y=0$ e $y=x$.

Quindi:

$$\int_0^1 \int_0^x xy \, dy \, dx = \int_0^1 \left[\frac{xy^2}{2} \right]_0^x dx = \int_0^1 \frac{x^3}{2} dx = \left[\frac{x^4}{8} \right]_0^1 = \frac{1}{8}$$

ESERCIZIO 4

Classificare e risolvere l'equazione differenziale

$$y'' - 2y' + y = \cos x$$

Definire i concetti di integrali generali ed integrali particolare.

SOLGIMENTO

Si tratta di un'equazione differenziale lineare del secondo ordine non omogenea.

Risolviamo l'equazione omogenea associata: $y'' - 2y' + y = 0$

Il polinomio caratteristico è $\lambda^2 - 2\lambda + 1 = 0$ che ha come soluzioni

$$\lambda = \frac{2 \pm \sqrt{4 - 4}}{2} = 1 \text{ che è soluzione doppia.}$$

Quindi la soluzione dell'omogenea è $y_{omog}(x) = c_1 e^x + c_2 x e^x$

Usiamo il metodo dei coefficienti indeterminati. Poiché il termine $\cos x$ è associato a che non è radice del polinomio caratteristico, cerchiamo soluzioni particolari nella forma

$$\bar{y}(x) = (A \cos x + B \sin x)$$

andando a derivare otteniamo

$$\bar{y}'(x) = (-A \sin x + B \cos x)$$

$$\bar{y}''(x) = -(A \cos x + B \sin x)$$

quindi sostituendo si ha

$$\bar{y}''(x) - 2\bar{y}'(x) + \bar{y}(x) = \cos x$$

cioè

$$-2(-A \sin x + B \cos x) = \cos x$$

$$\Rightarrow \begin{cases} A = 0 \\ B = -\frac{1}{2} \end{cases}$$

perciò

$$\bar{y}(x) = -\frac{\sin x}{2}$$

Pertanto la soluzione è

$$y(x) = y_{omog}(x) + \bar{y}(x) = c_1 e^x + c_2 x e^x - \frac{\sin x}{2}$$

Mettiamoci nel caso della EDO del primo ordine.

Sia pertanto $F(x, y, y') = 0$ una EDO del 1° ordine. Una qualsiasi funzione $y = y(x)$ definita su un intervallo $I \subseteq \mathbb{R}$ e derivabile su tale intervallo con derivato continuo tale che soddisfi la seguente relazione

$$F(x, y(x), y'(x)) = 0 \quad \forall x \in I$$

è detta INTEGRALE GENERALE di $F(x, y, y')$.

Ogni integrale generale di $F(x, y, y')$ ottenuto in corrispondenza ad un fissato punto iniziale $p_0 = (x_0, y_0) \in I$ è detto INTEGRALE PARTICOLARE.